



B X V Y

إدارة الامتحانات والاختبارات
قسم الامتحانات العامة

امتحان شهادة الدراسة الثانوية العامة لعام ٢٠٢٤ التكميلي

(وثيقة محمية/محمود)

د س

مدة الامتحان: ٣٠ : ١

رقم المبحث: 105

المبحث: الجغرافيا (خطة ٢٠١٩ فما بعد)

اليوم والتاريخ: الأربعاء ٢٠٢٥/١/٨
رقم الجلوس:

رقم النموذج: (١)

الفرع: الأدبي + الفندقي والسياحي (جامعات)

اسم الطالب:

اختر رمز الإجابة الصحيحة في كل فقرة مما يأتي، ثم ظلل بشكل غامق الدائرة التي تشير إلى رمز الإجابة في نموذج الإجابة (ورقة القارئ الضوئي) فهو النموذج المعتمد (فقط) لاحتساب علامتك، علماً أن عدد الفقرات (٥٠)، وعدد الصفحات (٦).

١- حالة الجو بعناصره المختلفة خلال فترة زمنية قصيرة تبدأ بساعات وتنتهي في مدة أقصاها أسبوعان، تعريف لـ:

(أ) المدى الحراري اليومي (ب) الضغط الجوي (ج) المناخ (د) الطقس

٢- إذا كانت درجة الحرارة (٥٠) فهرنهايت، فهي تعادل حسب النظام المئوي (سليسيوس):

(أ) ١٠ م (ب) ٣٢ م (ج) ٤٥ م (د) ٢٢ م

٣- يبلغ الضغط الجوي عند مستوى سطح البحر وزن عامود من الزئبق ارتفاعه:

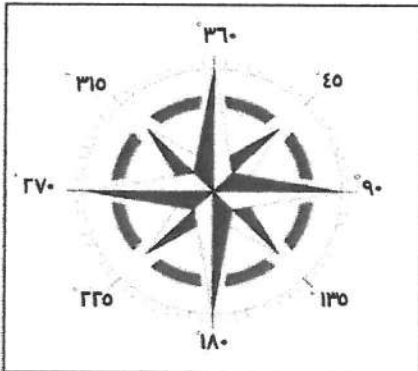
(أ) ٥٦ سم (ب) ٦٦ سم (ج) ٧٦ سم (د) ٨٦ سم

٤- اعتماداً على الشكل المجاور، الدرجة التي تُشير إلى اتجاه

الرياح الشمالية الغربية هي:

(أ) ٤٥ (ب) ٢٢٥

(ج) ٣١٥ (د) ٣٦٠



٥- تعتمد كمية الأمطار الحملية (التصادمية) التي تحدث في المناطق الاستوائية على:

(أ) كمية بخار الماء الذي يحتويه الهواء الصاعد ودرجة الحرارة

(ب) اصطدام الرياح المحملة ببخار الماء بحواجز تضاريسية كالجبال

(ج) امتداد الجبال، وارتفاعها، ورطوبة الهواء الصاعد إلى أعلى وسرعته

(د) التقاء كتلتين هوائيتين غير متجانستين، إحداها باردة والأخرى دافئة

٦- تتكون عادةً التيارات البحرية الدافئة على سواحل القارّات:

(أ) الشمالية (ب) الشرقية (ج) الجنوبية (د) الغربية

٧- تُعد طبوغرافية الأرض، وصفاء السماء، وطول ساعات الليل من عوامل تُشكّل:

(أ) السحب (ب) الضباب (ج) الندى (د) الصقيع

٨- من أبرز مسارات منخفضات البحر المتوسط "المسار الشرقي" الذي يتجه نحو:

(أ) وسط بلاد الشام إلى وادي الرافدين (ب) شمال تركيا، وجنوب أوروبا

(ج) ليبيا، والشمال الشرقي لأفريقيا (د) مصر، وشبه الجزيرة العربية

يتبع الصفحة الثانية

الصفحة الثانية/ نموذج (١)

٩- جميع ما يأتي من خصائص الأعاصير المدارية، ما عدا:

(أ) تتشأ في مناطق معينة من المحيطات

(ب) تغطي مساحات محدودة، يقل قطرها عن (٢٥٠) كم

(ج) تظهر ضمن نطاق الرياح التجارية والرياح الموسمية في المناطق الحارة

(د) أضرارها قليلة جدًا، تقتصر على الفيضانات، وبعض الانهيارات الأرضية

١٠- أحد أنواع الأعاصير، يظهر في المناطق المعتدلة داخل نطاق بعض المنخفضات الجوية التي تعبر أراضي أمريكا الشمالية، هو:

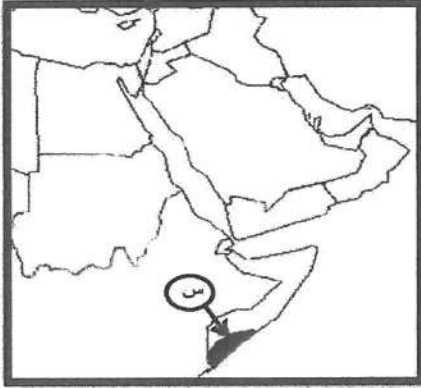
(أ) الهاريكين (ب) التيفون (ج) التورنادو (د) هايان

١١- الإقليم المناخي الذي ينتشر في منطقة الصحراء الكبرى، هو الإقليم:

(أ) الاستوائي (ب) المداري القاري (ج) المعتدل (د) المداري الموسمي

١٢- يصل ارتفاع جبل أم الدامي قرب مدينة العقبة إلى:

(أ) ١٨٥٤ مترًا (ب) ١٨٤٥ مترًا (ج) ١٥٨٤ مترًا (د) ١٥٤٨ مترًا



١٣- الإقليم المناخي الذي يسود في المنطقة المشار إليها بالرمز (س) إقليم:

(أ) البحر المتوسط (ب) المداري الموسمي

(ج) المداري القاري (د) الاستوائي

١٤- من أسباب تذبذب الأمطار في الأردن من سنة إلى أخرى زمنيًا ومكانيًا:

(أ) امتداد مظاهر التضاريسية من الغرب إلى الشرق

(ب) يقع ضمن نطاق تحرك المنخفضات الجوية في العروض العليا

(ج) تأثره بالمنخفض الجوي شبه المداري

(د) وقوعه إلى الجنوب من المسارات الرئيسية للمنخفضات الجوية

١٥- قدرة مكونات البيئة على استمرار الحياة على سطح الأرض دون مخاطر أو مشكلات تؤثر على الحياة البشرية، مصطلح يُشير إلى:

(أ) الإخلال البيئي (ب) التوازن البيئي (ج) النزوح البيئي (د) الحتمية البيئية

١٦- يُعد حفر الآبار الارتوازية وزراعة الأراضي الصحراوية في الأردن، من الأمثلة التي تؤيد أفكار أصحاب النظرية:

(أ) الاحتمالية (ب) الحتمية (ج) التوافقية (د) الإمكانية

١٧- تعمل طبقة الأوزون على حماية الأرض من خلال امتصاص الأشعة:

(أ) تحت الحمراء (ب) فوق البنفسجية (ج) الكهرومغناطيسية (د) الحرارية

يتبع الصفحة الثالثة

الصفحة الثالثة/ نموذج (١)

١٨- تُشير التوقعات أنّ ارتفاع درجة حرارة سطح الأرض بمقدار (٢-٤) درجات مئوية سيرافقه زيادة في كمية التساقط السنوي بمقدار يتراوح ما بين:

- (أ) (١٠ - ٣٠) ملم
(ب) (٢٠ - ٥٠) ملم
(ج) (٣٠ - ١٠٠) ملم
(د) (٤٠ - ١٣٠) ملم

١٩- انتقال نطاق النباتات إلى ارتفاعات أعلى، وهجرة الطيور من قارة أوروبا إلى قارة أفريقيا مع بداية الخريف وعودتها إلى أوروبا في بداية فصل الربيع من الأمثلة على:

- (أ) تدهور الموارد المائية (ب) تدهور التنوع الحيوي (ج) تغيير النمط المطري (د) النزوح البيئي
٢٠- من الفوائد الاجتماعية للتخطيط البيئي:

(أ) استخدام التكنولوجيا الصديقة للبيئة
(ب) التخلص الآمن من المخلفات وإعادة استخدامها
(ج) الموازنة بين النمو السكاني والموارد
(د) إيجاد بيئة صحية تساعد الأفراد على العمل والإنتاج
٢١- العِلْم الذي يستخدم المعايير البيئية في مختلف جوانب الحياة الاقتصادية؛ بهدف المحافظة على توازن البيئة وتحقيق نمو اقتصادي مُستدام:

- (أ) الاقتصاد الأخضر
(ب) التنمية المستدامة
(ج) الاقتصاد الزراعي
(د) عِلْم الاقتصاد

٢٢- مساحات واسعة من الأراضي الطبيعية، تُخصصها الدولة بقانون حماية المصادر المتوفرة، وتشمل الأراضي الطبيعية والمصادر البيئية الحيوية والتاريخية والأثرية والثقافية والترفيهية، تعريف لـ:

- (أ) المواقع الحيوية (ب) المصادر البيئية (ج) المحميّة (د) المواقع الأثرية

٢٣- محمية طبيعية أردنية تُمثّل موطن حيوان المها العربي:

- (أ) ضانا (ب) الشومري (ج) الأزرق المائية (د) وادي رمّ

٢٤- أكثر دولة إنتاجًا للطاقة الكهربائية بالاعتماد على طاقة الرياح:

- (أ) الصين (ب) الهند (ج) الولايات المتحدة الأمريكية (د) كندا

٢٥- أنشأ الأردن أول مشروع لتوليد الطاقة الكهربائية من طاقة الرياح في محافظة:

- (أ) إربد (ب) معان (ج) عمّان (د) الطفيلة

٢٦- للصخور النارية مثل البازلت والجرانيت قدرة أكبر على مقاومة العوامل الجوية؛ بسبب:

- (أ) زيادة نسبة المسامات فيها
(ب) ارتفاع نسبة رطوبتها
(ج) صلابة المعادن المُكوّنة لها
(د) كبير حجم الصخور النارية

٢٧- من العوامل الجيومورفولوجية التي تعمل على تشكيل معالم سطح الأرض:

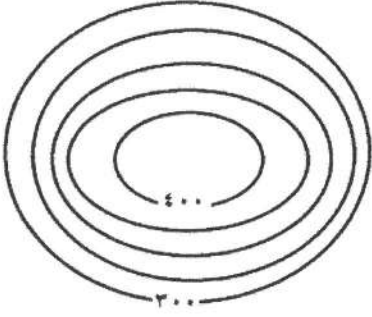
- (أ) البراكين (ب) الأنهار (ج) الصدوع (د) الالتواءات

٢٨- تظهر خطوط الكنتور التي تُمثّل منخفضًا أرضيًا على الخرائط الطبوغرافية على شكل:

- (أ) حلقيّ مُغلق، وتتناقص قيم الخطوط نحو الداخل
(ب) حلقيّ مُغلق، وتتزايد قيم الخطوط نحو الداخل
(ج) يُشبه الرقمين (٧، ٨)، وتتناقص قيم الخطوط نحو الداخل
(د) يُشبه الرقمين (٧، ٨)، وتتزايد قيم الخطوط نحو الداخل

يتبع الصفحة الرابعة

الصفحة الرابعة/ نموذج (١)



٢٩- تبلغ قيمة الفاصل الرأسى في الخريطة الكنتورية المجاورة:

- (أ) ٢٠
(ب) ٢٥
(ج) ٥٠
(د) ١٠٠

٣٠- يُعدّ استثمار الصحاري والأراضي الجافة وشبه الجافة، وتنتج العواصف الرملية وأثرها في نشاط الإنسان من الجوانب التطبيقية لعلم:

- (أ) الجيولوجيا (ب) الجيوبولتيك (ج) الجيومورفولوجيا (د) الجيوهيدرولوجيا

٣١- من العوامل التي تساعد على حدوث التجوية الميكانيكية:

- (أ) تحلل الحيوانات الميتة (ب) إذابة العناصر المعدنية المكونة للصخور
(ج) ارتفاع نسبة الرطوبة (د) تعاقب الحرارة والبرودة

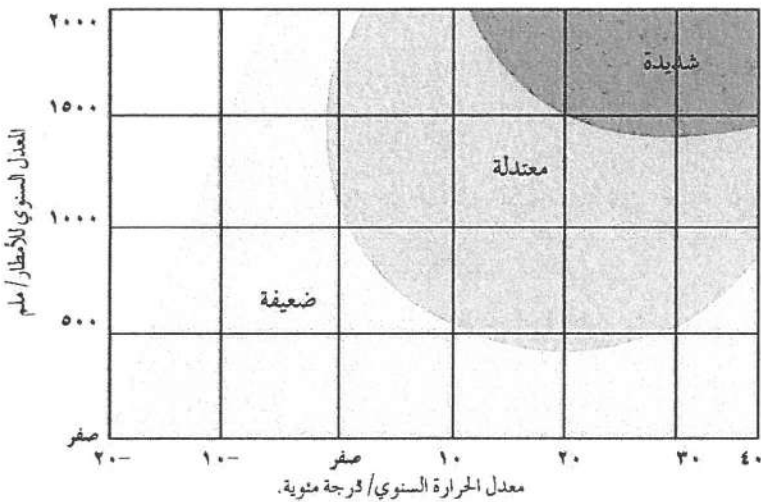
٣٢- العبارة التي تُوضّح العلاقة بين نوع التجوية ودرجة الانحدار من العبارات الآتية، هي:

- (أ) يقلّ نشاط التجوية الميكانيكية على السفوح شديدة الانحدار
(ب) يزداد نشاط التجوية الكيميائية على السفوح شديدة الانحدار
(ج) يزداد نشاط التجوية الميكانيكية على السفوح شديدة الانحدار
(د) لا تؤثر درجة الانحدار في سرعة عملية التجوية ونوعيتها

٣٣- في الشكل المجاور تكون التجوية الكيميائية

شديدة إذا كان معدل الأمطار (١٥٠٠) ملم، ودرجة الحرارة المنوية:

- (أ) ٢٠- (ب) صفراً
(ج) ١٠ (د) ٣٠



٣٤- تُعرف الكتل الصخرية المتجانسة على شكل أغشية رقيقة تتكوّن عند تعرضها لتغيرات متطرفة في درجات الحرارة بـ:

- (أ) حُفر الإذابة (ب) قباب التقشر (ج) الحُطام الصخري (د) الموائد الصخرية

٣٥- تنقل الرياح الرمال الخشنة التي يفوق قطرها (٠,٠٥) ملم بشكل بطيء ولمسافات محدودة عن طريق:

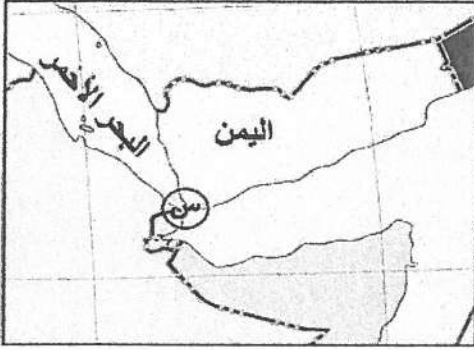
- (أ) الرّخف (ب) التّدرية (ج) القفز (د) التعلّق

يتبع الصفحة الخامسة

الصفحة الخامسة/ نموذج (١)

- ٣٦- يُسمى الشكل الأرضي الذي يحدث نتيجة حت الرياح المحملة بالرمال للطبقات الصخرية اللينة الموجودة عند قاعدة الصخور؛ ما يؤدي إلى تأكلها أكثر من الصخور الموجودة في الأعلى :-
- (أ) الشواهد الصخرية (ب) حفر التذرية (ج) الموائد الصخرية (د) الحماد
- ٣٧- تُعرف أخفض نقطة في أجزاء الحوض النهري والتي تتجمع فيها المياه :-
- (أ) سرير النهر (ب) القناة النهريّة (ج) حوض النهر (د) مصب النهر
- ٣٨- تُعرف عملية الحَتّ التي تحدث في منطقة المنابع فقط عندما تعترض طبقة من الصخور الصلبة المياه الجارية؛ ما يؤدي إلى حَتّ الطبقة اللينة التي تليها، فتتآكل الصخور الصلبة بالَحَتّ:
- (أ) الرأسي (ب) التراجعي (ج) العميق (د) الجانبي
- ٣٩- جزء من مجرى النهر يتميز بشدة انحدار جوانبه، وعمقه بالنسبة إلى اتساعه هو:
- (أ) الشلالات (ب) الجنادل (ج) الخوانق (د) البحيرات الكوعية
- ٤٠- فرع الجغرافيا البشرية الذي يهتم بدراسة المقومات الطبيعية والبشرية للدولة وتنظيمها الداخلي وتأثير ذلك في قوتها السياسية وعلاقتها الخارجية، هو:
- (أ) الجغرافيا السياسية (ب) الجغرافيا العسكرية (ج) الجيوبولتيك (د) الجغرافيا الاقتصادية
- ٤١- من الأمثلة على الدول الموحدة (المركزية):
- (أ) أستراليا (ب) الإمارات العربية (ج) سويسرا (د) الأردن
- ٤٢- من خصائص الحدود السياسية:
- (أ) ظاهرة بشرية ثابتة (ب) ظاهرة تتعرض للتغير والاختفاء والظهور (ج) ذات مساحات ممتدة (د) لا تستند إلى معاهدات أو اتفاقيات بين الدول
- ٤٣- تُشكّل جبال الأنديز حدًا سياسيًا فاصلاً بين:
- (أ) بوليفيا والبرازيل (ب) الإكوادور والبرازيل (ج) فنزويلا والبيرو (د) تشيلي والأرجنتين
- ٤٤- الوظيفة التي تؤديها الحدود التي أقامتها فرنسا على حدودها الشرقية مع ألمانيا (خط ماجينو)، هي:
- (أ) الوظيفة الأمنية (ب) الفصل بين الدول (ج) الوظيفة الاقتصادية (د) الوظيفة القانونية
- ٤٥- يُمكن تحديد الحدود النهرية بطرائق عدة، منها رسم خطّ وسط مجرى النهر، ومثال ذلك:
- (أ) حدود نهر بوج بين بولندا ودولتيّ أوكرانيا وبيلاروسيا (ب) الحدود بين فرنسا وألمانيا على نهر الراين (ج) الحدود النهرية بين الأرجنتين وتشيلي (د) الحدود الأمريكية المكسيكية على نهر ريوجراند
- ٤٦- رُسمت الحدود بين الهند وباكستان على أساس:
- (أ) ديني (ب) عرقي (ج) لغوي (د) سياسي

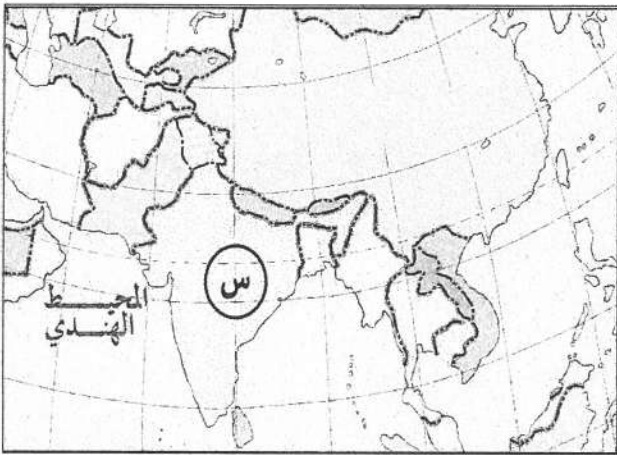
الصفحة السادسة/ نموذج (١)



- ٤٧- الممر المائي المُشار إليه على الخريطة بالرمز (س):
أ) مضيق باب المندب ب) مضيق جبل طارق
ج) قناة السويس د) مضيق هرمز

٤٨- الدولة العربية التي تُمثّل الطرف الثاني لمشكلة شط العرب مع إيران، هي:

- أ) الإمارات ب) الكويت ج) العراق د) عُمان



- ٤٩- الدولة التي يُشير إليها الرمز (س) على الخريطة:
أ) الهند ب) باكستان
ج) أفغانستان د) الصين

٥٠- من الدول التي تمنع الأقليات لديها من استخدامها لغتها الخاصة:

- أ) الصين، تمنع الأقليات المنغولية ب) إيطاليا، تمنع الأقلية النمساوية
ج) كندا، تمنع الأقليات العربية د) اليابان، تمنع الأقليات الكورية

﴿ انتهت الأسئلة ﴾



امتحان شهادة الدراسة الثانوية العامة لعام ٢٠٢٤ التكميلي

(وثيقة محمية/محمود)

د س

مدة الامتحان: ٤٥ : ٠٠

رقم المبحث: 106

المبحث: الجغرافيا / ف١

اليوم والتاريخ: الأربعاء ٢٠٢٥/١/٨

الفرع: الأدبي + الفندقي والسياحي (جامعات) / خطة ٢٠١٨

رقم الجلوس:

رقم النموذج: (١)

اسم الطالب:

اختر رمز الإجابة الصحيحة في كل فقرة مما يأتي، ثم ظلل بشكل غامق الدائرة التي تشير إلى رمز الإجابة في نموذج الإجابة (ورقة القارئ الضوئي) فهو النموذج المعتمد (فقط) لاحتساب علامتك، علماً أن عدد الفقرات (٢٥)، وعدد الصفحات (٣).

١- حالة الجو بعناصره المختلفة خلال فترة زمنية قصيرة تبدأ بساعات وتنتهي في مدة أقصاها أسبوعان، تعريف لـ:

(أ) المدى الحراري اليومي (ب) الضغط الجوي (ج) المناخ (د) الطقس

٢- إذا كانت درجة الحرارة (٥٠) فهرنهايت، فهي تعادل حسب النظام المئوي (سليسيوس):

(أ) ١٠ م (ب) ٣٢ م (ج) ٤٥ م (د) ٢٢ م

٣- يبلغ الضغط الجوي عند مستوى سطح البحر وزن عامود من الزئبق ارتفاعه:

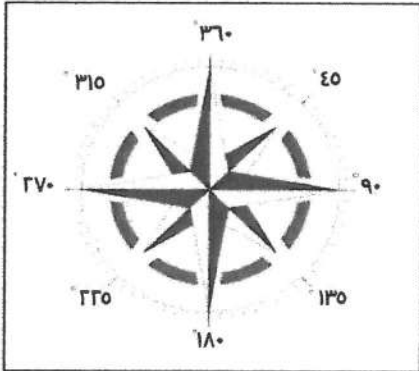
(أ) ٥٦ سم (ب) ٦٦ سم (ج) ٧٦ سم (د) ٨٦ سم

٤- اعتماداً على الشكل المجاور، الدرجة التي تُشير إلى اتجاه

الرياح الشمالية الغربية هي:

(أ) ٤٥ (ب) ٢٢٥

(ج) ٣١٥ (د) ٣٦٠



٥- تعتمد كمية الأمطار الحملية (التصادعية) التي تحدث في المناطق الاستوائية على:

(أ) كمية بخار الماء الذي يحتويه الهواء الصاعد ودرجة الحرارة

(ب) اصطدام الرياح المحملة ببخار الماء بحواجز تضاريسية كالجبال

(ج) امتداد الجبال، وارتفاعها، ورطوبة الهواء الصاعد إلى أعلى وسرعته

(د) التقاء كتلتين هوائيتين غير متجانستين، إحداها باردة والأخرى دافئة

٦- تتكون عادةً التيارات البحرية الدافئة على سواحل القارّات:

(أ) الشمالية (ب) الشرقية (ج) الجنوبية (د) الغربية

٧- تُعد طبوغرافية الأرض، وصفاء السماء، وطول ساعات الليل من عوامل تُشكّل:

(أ) السحب (ب) الضباب (ج) الندى (د) الصقيع

٨- من أبرز مسارات منخفضات البحر المتوسط "المسار الشرقي" الذي يتجه نحو:

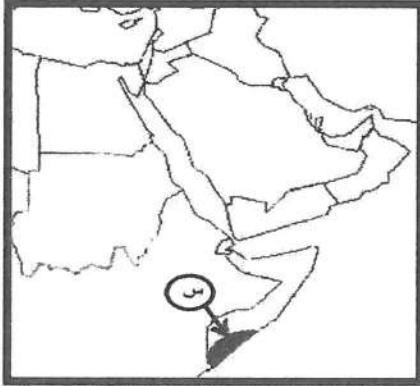
(أ) وسط بلاد الشام إلى وادي الرافدين (ب) شمال تركيا، وجنوب أوروبا

(ج) ليبيا، والشمال الشرقي لأفريقيا (د) مصر، وشبه الجزيرة العربية

الصفحة الثانية

- ٩- جميع ما يأتي من خصائص الأعاصير المدارية، ما عدا:
أ) تنشأ في مناطق معينة من المحيطات
ب) تغطي مساحات محدودة، يقل قطرها عن (٢٥٠) كم
ج) تظهر ضمن نطاق الرياح التجارية والرياح الموسمية في المناطق الحارة
د) أضرارها قليلة جدًا، تقتصر على الفيضانات، وبعض الانهيارات الأرضية
- ١٠- أحد أنواع الأعاصير، يظهر في المناطق المعتدلة داخل نطاق بعض المنخفضات الجوية التي تعبر أراضي أمريكا الشمالية، هو:

- أ) الهاريكين
ب) التيفون
ج) التورنادو
د) هايان
- ١١- الإقليم المناخي الذي ينتشر في منطقة الصحراء الكبرى، هو الإقليم:
أ) الاستوائي
ب) المداري القاري
ج) المعتدل
د) المداري الموسمي
- ١٢- يصل ارتفاع جبل أم الدامي قرب مدينة العقبة إلى:
أ) ١٨٥٤ مترًا
ب) ١٨٤٥ مترًا
ج) ١٥٨٤ مترًا
د) ١٥٤٨ مترًا



- ١٣- الإقليم المناخي الذي يسود في المنطقة المشار إليها بالرمز (س) إقليم:
أ) البحر المتوسط
ب) المداري الموسمي
ج) المداري القاري
د) الاستوائي

- ١٤- من أسباب تذبذب الأمطار في الأردن من سنة إلى أخرى زمنيًا ومكانيًا:
أ) امتداد مظاهر التضاريسية من الغرب إلى الشرق
ب) يقع ضمن نطاق تحرك المنخفضات الجوية في العروض العليا
ج) تأثره بالمنخفض الجوي شبه المداري
د) وقوعه إلى الجنوب من المسارات الرئيسة للمنخفضات الجوية
- ١٥- قدرة مكونات البيئة على استمرار الحياة على سطح الأرض دون مخاطر أو مشكلات تؤثر على الحياة البشرية، مصطلح يُشير إلى:

- أ) الإخلال البيئي
ب) التوازن البيئي
ج) النزوح البيئي
د) الحتمية البيئية
- ١٦- يُعد حفر الآبار الارتوازية وزراعة الأراضي الصحراوية في الأردن، من الأمثلة التي تؤيد أفكار أصحاب النظرية:
أ) الاحتمالية
ب) الحتمية
ج) التوافقية
د) الإمكانية
- ١٧- تعمل طبقة الأوزون على حماية الأرض من خلال امتصاص الأشعة:
أ) تحت الحمراء
ب) فوق البنفسجية
ج) الكهرومغناطيسية
د) الحرارية

الصفحة الثالثة

١٨- تُشير التوقعات أنّ ارتفاع درجة حرارة سطح الأرض بمقدار (٢-٤) درجات مئوية سيرافقه زيادة في كمية التساقط السنوي بمقدار يتراوح ما بين:

(أ) (١٠ - ٣٠) ملم

(ب) (٢٠ - ٥٠) ملم

(ج) (٣٠ - ١٠٠) ملم

(د) (٤٠ - ١٣٠) ملم

١٩- انتقال نطاق النباتات إلى ارتفاعات أعلى، وهجرة الطيور من قارة أوروبا إلى قارة أفريقيا مع بداية الخريف وعودتها إلى أوروبا في بداية فصل الربيع من الأمثلة على:

(أ) تدهور الموارد المائية (ب) تدهور التنوع الحيوي (ج) تغيير النمط المطري (د) النزوح البيئي

٢٠- من الفوائد الاجتماعية للتخطيط البيئي:

(أ) استخدام التكنولوجيا الصديقة للبيئة

(ب) التخلص الآمن من المخلفات وإعادة استخدامها

(ج) الموازنة بين النمو السكاني والموارد

(د) إيجاد بيئة صحية تساعد الأفراد على العمل والإنتاج

٢١- العِلْم الذي يستخدم المعايير البيئية في مختلف جوانب الحياة الاقتصادية؛ بهدف المحافظة على توازن البيئة وتحقيق نمو اقتصادي مُستدام:

(أ) الاقتصاد الأخضر

(ب) التنمية المستدامة

(ج) الاقتصاد الزراعي

(د) عِلْم الاقتصاد

٢٢- مساحات واسعة من الأراضي الطبيعية، تُخصصها الدولة بقانون حماية المصادر المتوفرة، وتشمل الأراضي الطبيعية والمصادر البيئية الحيويّة والتاريخية والأثرية والثقافية والترويحية، تعريف لـ:

(أ) المواقع الحيويّة (ب) المصادر البيئية (ج) المحميّة (د) المواقع الأثرية

٢٣- محمية طبيعية أردنية تُمثّل موطن حيوان المها العربي:

(أ) ضانا (ب) الشومري (ج) الأزرق المائية (د) وادي رمّ

٢٤- أكثر دولة إنتاجاً للطاقة الكهربائية بالاعتماد على طاقة الرياح:

(أ) الصين (ب) الهند (ج) الولايات المتحدة الأمريكية (د) كندا

٢٥- أنشأ الأردن أول مشروع لتوليد الطاقة الكهربائية من طاقة الرياح في محافظة:

(أ) إربد (ب) معان (ج) عمّان (د) الطفيلة

﴿ انتهت الأسئلة ﴾

امتحان شهادة الدراسة الثانوية العامة لعام ٢٠٢٤ التكميلي

(وثيقة مضمّنة/محدود)

د س

مدة الامتحان: ٤٥ : ٠٠

رقم المبحث: 107

المبحث: الجغرافيا / ف٢

اليوم والتاريخ: الأربعاء ٢٠٢٥/١/٨

الفرع: الأنبي + الفندي والسياحي (جامعات) / خطة ٢٠١٨

رقم الجلوس:

رقم النموذج: (١)

اسم الطالب:

اختر رمز الإجابة الصحيحة في كل فقرة مما يأتي، ثم ظلل بشكل غامق الدائرة التي تشير إلى رمز الإجابة في نموذج الإجابة (ورقة القارئ الضوئي) فهو النموذج المعتمد (فقط) لاحتساب علامتك، علماً أن عدد الفقرات (٢٥)، وعدد الصفحات (٣).

١- للصخور النارية مثل البازلت والجرانيت قدرة أكبر على مقاومة العوامل الجوية؛ بسبب:

(أ) زيادة نسبة المسامات فيها

(ب) ارتفاع نسبة رطوبتها

(ج) صلابة المعادن المكوّنة لها

(د) كبر حجم الصخور النارية

٢- من العوامل الجيومورفولوجية التي تعمل على تشكيل معالم سطح الأرض:

(أ) البراكين

(ب) الأنهار

(ج) الصدوع

(د) الالتواءات

٣- تظهر خطوط الكنتور التي تُمَثَلُ منخفضاً أرضياً على الخرائط الطبوغرافية على شكل:

(أ) حلقيّ مُغلق، وتتناقص قيم الخطوط نحو الداخل

(ب) حلقيّ مُغلق، وتتزايد قيم الخطوط نحو الداخل

(ج) يُشبهه الرقمين (٧، ٨)، وتتناقص قيم الخطوط نحو الداخل

(د) يُشبهه الرقمين (٧، ٨)، وتتزايد قيم الخطوط نحو الداخل

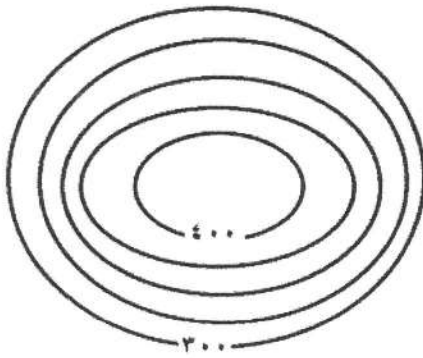
٤- تبلغ قيمة الفاصل الرأسي في الخريطة الكنتورية المجاورة:

(أ) ٢٠

(ب) ٢٥

(ج) ٥٠

(د) ١٠٠



٥- يُعدّ استثمار الصحاري والأراضي الجافة وشبه الجافة، وتنبُّع العواصف الرملية وأثرها في نشاط الإنسان من الجوانب

التطبيقية لِعِلْم:

(أ) الجيولوجيا

(ب) الجيوبولتيك

(ج) الجيومورفولوجيا

(د) الجيوهيدرولوجيا

٦- من العوامل التي تساعد على حدوث التجوية الميكانيكية:

(أ) تحلّل الحيوانات الميتة

(ب) إذابة العناصر المعدنية المكوّنة للصخور

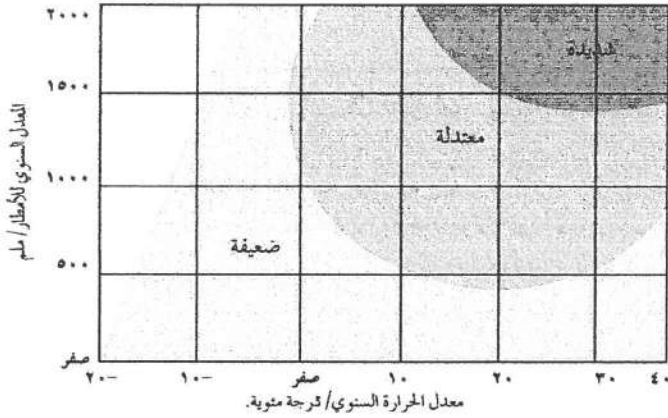
(ج) ارتفاع نسبة الرطوبة

(د) تعاقب الحرارة والبرودة

الصفحة الثانية

٧- العبارة التي تُوضِّح العلاقة بين نوع التجوية ودرجة الانحدار من العبارات الآتية، هي:

- (أ) يقلّ نشاط التجوية الميكانيكية على السفوح شديدة الانحدار
 (ب) يزداد نشاط التجوية الكيميائية على السفوح شديدة الانحدار
 (ج) يزداد نشاط التجوية الميكانيكية على السفوح شديدة الانحدار
 (د) لا تؤثر درجة الانحدار في سرعة عملية التجوية ونوعيتها



٨- في الشكل المجاور تكون التجوية الكيميائية شديدة إذا

كان معدل الأمطار (١٥٠٠) ملم، ودرجة الحرارة
 المئوية:

- (أ) ٢٠- (ب) صفراً
 (ج) ١٠ (د) ٣٠

٩- تُعرف الكُتْل الصخرية المتجانسة على شكل أغشية رقيقة تتكوّن عند تعرضها لتغيرات متطرفة في درجات الحرارة بـ:

- (أ) حُفَر الإذابة (ب) قِباب التَقَشُّر (ج) الحُطَام الصخري (د) الموائد الصخرية

١٠- تتقل الرياح الرمال الخشنة التي يفوق قطرها (٠,٠٥) ملم بشكل بطيء ولمسافات محدودة عن طريق:

- (أ) الزَّحْف (ب) التَّدْرِيَة (ج) القَفْز (د) التَّعَلُّق

١١- يُسمى الشكل الأرضي الذي يحدث نتيجة حت الرياح المحملة بالرمال للطبقات الصخرية اللينة الموجودة عند قاعدة

الصخور؛ ما يؤدي إلى تأكلها أكثر من الصخور الموجودة في الأعلى بـ:

- (أ) الشواهد الصخرية (ب) حفر التذرية (ج) الموائد الصخرية (د) الحماد

١٢- تُعرف أخفض نقطة في أجزاء الحوض النهري والتي تتجمع فيها المياه بـ:

- (أ) سرير النهر (ب) القناة النهريّة (ج) حوض النهر (د) مصب النهر

١٣- تُعرف عملية الحَتّ التي تحدث في منطقة المنابع فقط عندما تعترض طبقة من الصخور الصلبة المياه الجارية؛ ما

يؤدي إلى حَتّ الطبقة اللينة التي تليها، فتتآكل الصخور الصلبة بالحَتّ:

- (أ) الرأسي (ب) التراجعي (ج) العميق (د) الجانبي

١٤- جزء من مجرى النهر يتميز بشدة انحدار جوانبه، وعمقه بالنسبة إلى اتساعه هو:

- (أ) الشلالات (ب) الجنادل (ج) الخوانق (د) البحيرات الكوعية

١٥- فرع الجغرافيا البشرية الذي يهتم بدراسة المقومات الطبيعية والبشرية للدولة وتنظيمها الداخلي وتأثير ذلك في قوتها

السياسية وعلاقتها الخارجية، هو:

- (أ) الجغرافيا السياسية (ب) الجغرافيا العسكرية (ج) الجيوبولتيك (د) الجغرافيا الاقتصادية

يتبع الصفحة الثالثة

الصفحة الثالثة

١٦- من الأمثلة على الدول الموحدة (المركزية):

(أ) أستراليا (ب) الإمارات العربية (ج) سويسرا (د) الأردن

١٧- من خصائص الحدود السياسية:

(أ) ظاهرة بشرية ثابتة (ب) ظاهرة تتعرض للتغير والاختفاء والظهور
(ج) ذات مساحات ممتدة (د) لا تستند إلى معاهدات أو اتفاقيات بين الدول

١٨- تُشكّل جبال الأنديز حدًا سياسيًا فاصلاً بين:

(أ) بوليفيا والبرازيل (ب) الإكوادور والبرازيل (ج) فنزويلا والبيرو (د) تشيلي والأرجنتين

١٩- الوظيفة التي تؤديها الحدود التي أقامتها فرنسا على حدودها الشرقية مع ألمانيا (خط ماجينو)، هي:

(أ) الوظيفة الأمنية (ب) الفصل بين الدول (ج) الوظيفة الاقتصادية (د) الوظيفة القانونية

٢٠- يُمكن تحديد الحدود النهرية بطرائق عدة، منها رسم خطّ وسط مجرى النهر، ومثال ذلك:

(أ) حدود نهر بوج بين بولندا ودولتيّ أوكرانيا وبيلاروسيا (ب) الحدود بين فرنسا وألمانيا على نهر الراين
(ج) الحدود النهرية بين الأرجنتين وتشيلي (د) الحدود الأمريكية المكسيكية على نهر ريوجراند

٢١- رُسمت الحدود بين الهند وباكستان على أساس:

(أ) ديني (ب) عرقي (ج) لغوي (د) سياسي

٢٢- الممرّ المائيّ المُشار إليه على الخريطة بالرمز (س):

(أ) مضيق باب المندب (ب) مضيق جبل طارق
(ج) قناة السويس (د) مضيق هرمز

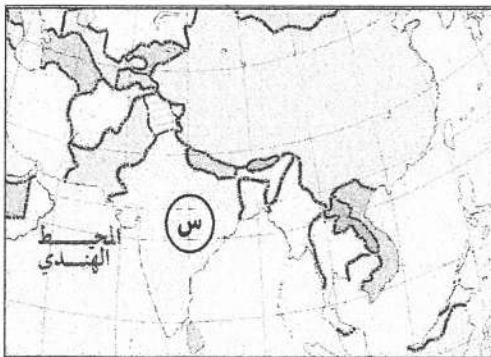


٢٣- الدولة العربية التي تُمثّل الطرف الثاني لمشكلة شطّ العرب مع إيران، هي:

(أ) الإمارات (ب) الكويت (ج) العراق (د) عُمان

٢٤- الدولة التي يُشير إليها الرمز (س) على الخريطة:

(أ) الهند (ب) باكستان
(ج) أفغانستان (د) الصين



٢٥- من الدول التي تمنع الأقليات لديها من استخدام لغتها الخاصة:

(أ) الصين، تمنع الأقليات المنغولية (ب) إيطاليا، تمنع الأقلية النمساوية
(ج) كندا، تمنع الأقليات العربية (د) اليابان، تمنع الأقليات الكورية

﴿ انتهت الأسئلة ﴾



3 C B و

إدارة الامتحانات والاختبارات
قسم الامتحانات العامة

امتحان شهادة الدراسة الثانوية العامة لعام ٢٠٢٤ التكميلي

(وثيقة محمية/محمود)

د س

مدة الامتحان: ٣٠ : ١

المبحث : العلوم الشرعية (النظم الإسلامية وفقه الدعوة وفقه المعاملات)

اليوم والتاريخ: الأربعاء ٢٠٢٥/١/٨
رقم الجلوس:

رقم المبحث: 331
رقم النموذج: (١)

الفرع: الشرعي
اسم الطالب:

اختر رمز الإجابة الصحيحة في كل فقرة مما يأتي، ثم ظلل بشكل غامق الدائرة التي تشير إلى رمز الإجابة في نموذج الإجابة (ورقة القارئ الضوئي) فهو النموذج المعتمد (فقط) لاحتساب علامتك، علماً أن عدد الفقرات (٥٠)، وعدد الصفحات (٤).

١- هدف الأسرة في الإسلام الذي يدلّ عليه قول النبي ﷺ "يا معشر الشباب من استطاع الباءة فليتزوج، فإنه أغضّ للبصر، وأحصن للفرج":

(ب) تحقيق السكينة بين الزوجين

(أ) إيجاد النسل الصالح

(د) تكوين المجتمع المسلم وترابطه

(ج) تحقيق العفة لدى الزوجين

٢- من الوسائل التي تسهم في تذليل الصعوبات المادية التي تواجه الشباب عند الزواج:

(ب) منع الأنكحة غير المشروعة

(أ) القروض الحسنة

(د) إنشاء دائرة قاضي القضاة

(ج) منع الاختلاط دون ضرورة شرعية

٣- بنى الإسلام نظام الإزث على أساس:

(د) العرق

(ج) المصلحة

(أ) الصداقة (ب) القرابة

٤- المقصود بالتبني هو:

(ب) نسبُ الطفل إلى غير أبيه

(أ) ثبوت صلة الطفل بوالديه وأجداده

(د) رعاية الطفل الذي مات أبوه قبل سن البلوغ

(ج) تأمين الحاجات الأساسية للطفل

٥- يكون سداد الدين للميت:

(ب) بعد دفع الزكاة التي لم يؤدّها الميت

(أ) بعد تنفيذ الوصية

(د) قبل تنفيذ الوصية

(ج) بعد توزيع المال على الورثة

٦- الميت الذي يستحق غيره أن يرث تركته منه يُسمى:

(د) الورثة

(ج) المؤرث

(أ) الموروث (ب) الوارث

٧- نصيب الزوجة من ميراث زوجها إذا كان لزوجها ولد:

(د) الثمن

(ج) الربع

(أ) النصف (ب) الثلث

٨- حالة ترث فيها المرأة مثل ميراث الرجل:

(ب) الأم عند وجود الفرع الوارث

(أ) الزوجة إذا كان لزوجها ولد

(د) الزوجة إذا لم يكن لزوجها ولد

(ج) الأم عند عدم وجود الفرع الوارث

٩- يُشير قول الله تعالى: ﴿وَمَا كُنَّا مُعَذِّبِينَ حَتَّىٰ نَبْعَثَ رَسُولًا﴾ إلى أنه:

(ب) لا تتعدى العقوبة إلى غير الجاني

(أ) لا عقوبة إلا بنص شرعي

(د) أهمية التكامل بين الوازع الداخلي والرقابة الخارجية

(ج) ضرورة التناسب بين العقوبة والجريمة

يتبع الصفحة الثانية

الصفحة الثانية

١٠- تُطلق عبارة (فعل أمرٍ مُحَرَّم أو ترك أمرٍ واجبٍ ممَّا رَتَّبَ عليه الشرع عقوبةً دنيويةً)، على:

(أ) العقوبة (ب) القصاص (ج) المعصية (د) الجريمة

١١- من التدابير الوقائية لمنع الجريمة التي يدلّ عليها قول الله تعالى: ﴿وَأَقِمِ الصَّلَاةَ إِنَّ الصَّلَاةَ تَنْهَى عَنِ الْفَحْشَاءِ وَالْمُنْكَرِ﴾:

(أ) تفعيل دور الأسرة في التربية (ب) تحديد الجرائم وإعلان تحريمها

(ج) تهذيب النفس الإنسانية (د) تكوين رأيٍ مُوحَّدٍ مُناهضٍ للجريمة

١٢- من مزايا التشريع الإسلامي في مُحاربة الجريمة التي يُشير إليها قول الله تعالى: ﴿أَلَا يَعْلَمُ مَنْ خَلَقَ وَهُوَ اللَّطِيفُ الْخَبِيرُ﴾:

(أ) الرابانية (ب) الشمول (ج) الثبات (د) المرونة

١٣- من مزايا الخُدود أنها:

(أ) وجبت حقًا لله تعالى (ب) يجوز فيها الزيادة أو النقصان

(ج) يجوز فيها العفو إذا وصلت للقضاء (د) يحق للمجني عليه التنازل عنها

١٤- من الجرائم التي تستحق عقوبة التعزير:

(أ) الزنا (ب) القذف (ج) التجسس (د) قطع الطريق

١٥- نوع من أنواع الجهاد أشار إليه قول النبي ﷺ: "أحيي والداك؟ قال: نعم، قال: ففيهما فجاهد".

(أ) الإصلاح بين الناس والبرّ بهم (ب) الدعوة والتذكير بالله تعالى

(ج) العمل وتحصيل الرزق بما ينفع النفس (د) الإنفاق في سبيل الله تعالى

١٦- كلُّ ما يأتي من حكمة مشروعية الجهاد، ما عدا:

(أ) ضمان حرية نشر الدعوة (ب) جعل الجهاد وسيلة لا غاية

(ج) رفع الظلم عن المستضعفين (د) حماية الدّين والوطن ومكتسبات الأمة

١٧- حُكم الجهاد في حال نزول عدو ببلد من بلاد المسلمين:

(أ) فرض كفاية (ب) مُستحب (ج) فرض عَيْن (د) مُباح

١٨- حُكم استهداف النساء والصبيان وكبار السن والمرضى في الحرب:

(أ) مُباح (ب) مندوب (ج) مكروه (د) حرام

١٩- كلُّ ما يأتي له الحق في إطلاق لفظ (الكفر) على المُسلم، ما عدا:

(أ) دار الإفتاء (ب) دائرة قاضي القضاة (ج) وليّ الأمر (د) طالب العلم الشرعيّ

٢٠- من مظاهر المنهج النبويّ في الدعوة التي تدلّ عليها مُشاورة النبي ﷺ للناس، وقضاء حوائجهم، وتطبيب خواطرهم، ما يأتي:

(أ) الصبر على الأذى (ب) تأليف القلوب بالرفق واللين (ج) الحكمة وحُسن الخطاب (د) الإقناع

٢١- تُطلق عبارة (رَبَطَ صَلَاةَ الْمُؤْتَمِّ بِصَلَاةٍ غَيْرِهِ فَيَتَابِعُهُ فِي حَرَكَاتِهَا بِشُرُوطِ بَيِّنَاتِهَا الشَّرْعِ) على:

(أ) الإقامة (ب) الإمامة (ج) الإمام (د) المأموم

٢٢- من سُنن الإمامة:

(أ) أن يقف الإمام عن يمين المأموم (ب) أن يكون الإمام عالمًا بتفسير القرآن الكريم

(ج) أن يكون الإمام عالمًا باللغة العربية (د) أن يقوم الإمام للصلاة حين يُقال (حيّ على الفلاح)

الصفحة الثالثة

٢٣- يبدأ وقت صلاة الجمعة:

(أ) قبل زوال الشمس (ب) بعد زوال الشمس (ج) عندما يُصبح ظلّ كلّ شيءٍ مثليه (د) عند زوال الشمس
٢٤- من الأمور التي يحسن لخطيب الجمعة أن يختم بها خطبته:

(أ) التوسع في ذكر الحقائق (ب) الإجمال قبل التفصيل

(ج) ذكر آية كريمة أو حديث نبوي شريف (د) الإيضاح والشرح

٢٥- من مهارات الإلقاء الخطابي التي يدلّ عليها قول النبي ﷺ: "ألا هل بلغت؟ قالوا: نعم. قال: اللهم اشهد":

(أ) جودة النطق (ب) التنوع في نبرة الصوت (ج) حُسن الابتداء (د) التواصل الفاعل

٢٦- من عقود المنفعة في الإسلام، عقد:

(أ) الإجارة (ب) الهبة (ج) البيع (د) السلم

٢٧- حكم بيع الصُخف وشرائها عن طريق وضع الثمن وأخذها دون تلفظ، هو:

(أ) صحيح (ب) باطل (ج) فاسد (د) مكروه

٢٨- يدلّ قول الله تعالى: ﴿يَتَأْتِيهَا الَّذِينَ ءَامَنُوا لَا تَأْكُلُوا أَمْوَالَكُمْ بَيْنَكُمْ بِالْبَاطِلِ إِلَّا أَنْ تَكُونَ تِجَارَةً عَنْ تَرَاضٍ مِّنكُمْ﴾، على عدم صحة عقد:

(أ) الصغير غير المُميّز (ب) المُكره (ج) الصبي المُميّز (د) المجنون

٢٩- واحد ممّا يأتي تصح فيه الإقالة:

(أ) الوُفء (ب) السلم (ج) الزواج (د) الطلاق

٣٠- تُطلق عبارة (حق العاقد في فسخ العُقد أو إمضائه لظهور مُسوّغ شرعي أو بمقتضى اتفاق عُقدي)، على:

(أ) السبب (ب) الركن (ج) الخيار (د) العُقد

٣١- من شروط ثبوت خيار العيب:

(أ) أن يكون المُشتري على علم بالعيب (ب) أن يكون العيب قديمًا

(ج) رضا البائع بالعيب (د) إسقاط المُشتري للخيار بتنازله عنه

٣٢- من صور السماحة في الشراء التي يدلّ عليها قول النبي ﷺ: "رَحِمَ اللهُ رجلاً سَمَحًا إذا باع وإذا اشترى وإذا اقتضى":

(أ) عدم تفقد المُشتري العيب في السلعة (ب) عدم التسرّع في الشراء

(ج) كثرة اشتراطات المُشتري (د) قلة مُساومة المُشتري

٣٣- المقصود بـ (المعقود عليه) في عقد البيع:

(أ) البائع والمُشتري (ب) الإيجاب والقَبول (ج) المبيع والثمن (د) الصيغة والعاقدان

٣٤- حُكم بَيْع ليليّ حاسوبها لصديقتهَا مدة شهر، هو:

(أ) باطل (ب) صحيح (ج) مكروه (د) فاسد

٣٥- واحد ممّا يأتي ينعقد ببيعه موقوفًا على إجازة وليه:

(أ) المجنون (ب) السكران (ج) الصبي المُميّز (د) الرجل المُكره

٣٦- يُسمّى (بَيْع السلعة بأقل من ثمنها الأول بقدر معلوم) بيع:

(أ) الحطيطة (ب) المُرابحة (ج) التولية (د) المُناقصة

يتبع الصفحة الرابعة

الصفحة الرابعة

٣٧- تُطلق عبارة (عرض البائع سلعته للمشتري لبيعها لمن يدفع الثمن الأكثر)، على بيع:

(أ) المساومة (ب) المزايدة (ج) المقايضة (د) الوضعية

٣٨- يبدأ وقت النهي عن البيع يوم الجمعة:

(أ) من بدء الأذان الأول (ب) قبل الأذان الأول (ج) عند بدء صلاة الجمعة (د) من صعود الإمام على المنبر

٣٩- من شروط القرض:

(أ) حُسن الأداء (ب) الكتابة (ج) تحديد مدة الأداء (د) الإشهاد

٤٠- من أضرار الرِّبا على المجتمع:

(أ) انتشار النفاق (ب) الأزمات الاقتصادية (ج) الكِبْر والحسد (د) انتشار الزنا

٤١- توعد الله تعالى في قوله: ﴿فَإِنْ لَمْ تَفْعَلُوا فَأْذَنُوا بِحَرْبٍ مِنَ اللَّهِ وَرَسُولِهِ وَإِنْ تُبْتُمْ فَلَكُمْ رُءُوسُ أَمْوَالِكُمْ لَا تَظْلِمُونَ وَلَا تُظْلَمُونَ﴾ بمعاينة:

(أ) آكل الرِّبا (ب) آكل أموال اليتامى (ج) السارق (د) قاطع الطريق

٤٢- يحصل الإيجاب والقبول في عقد التجارة الإلكترونية في كلِّ ممَّا يأتي، ما عدا:

(أ) الكتابة (ب) الرِّسالة (ج) الإشارة (د) الإشهاد

٤٣- تختلف البطاقة الائتمانية عن بطاقة الصراف الآلي، أن البطاقة الائتمانية:

(أ) ليس لها مدة انتهاء (ب) لا يلزم أن يكون لصاحبها رصيد في حسابه

(ج) لا يتقاضى المَصْرِفُ عمولة رسوم على إصدارها (د) يتقاضى صاحبها أرباحاً من المَصْرِفِ مقابل اقتنائها

٤٤- حُكْم عَقْد الإجارة من المُستكره:

(أ) صحيح (ب) غير صحيح (ج) مُباح (د) مكروه

٤٥- من واجبات العُمال في الإسلام:

(أ) إعطاؤهم الأجر العادل (ب) إتقانهم عملهم (ج) معاملتهم معاملة حسنة (د) عدم تكليفهم فوق طاقتهم

٤٦- يتحمَّل تأمين العين المؤجَّرة في عَقْد الإجارة المُنتهية بالتمليك:

(أ) المالك المؤجِّر (ب) المُستأجر (ج) كفيل المُستأجر (د) المُستأجر والمالك المؤجِّر

٤٧- جميع ما يأتي يُنتهي عقد الوكالة، ما عدا:

(أ) عَزْل المُوكِّل الوكيل (ب) وفاة المُوكِّل (ج) وفاة الوكيل (د) مَرَض المُوكِّل

٤٨- يدلُّ قول النبي ﷺ: "الزعيْمُ غارم"، على مشروعية:

(أ) القرض (ب) الوكالة (ج) الكفالة (د) الإجارة

٤٩- تُسمى كفالة الحَدَّاد الذي يعمل صيانة لبيت وفق ما هو مطلوب منه، وتسليمه في الوقت المُحدَّد، كفالة:

(أ) الفعل (ب) العَيْن (ج) النفس (د) الدِّين

٥٠- نسبة الأرباح التي تأخذها شركات التأمين الإسلامي عند استثمارها لأموال المؤمن لهم وتتميتها لصالحهم، يكون

مُقابل عملها ك:

(أ) كفيل عن المؤمن لهم (ب) أجير وبائع (ج) مُقرض ومُموَّل (د) شريك مُضارب

﴿ انتهت الأسئلة ﴾



امتحان شهادة الدراسة الثانوية العامة لعام ٢٠٢٤ التكميلي

(وثيقة محمية/محمود)

س د

مدة الامتحان: ٣٠ : ١

رقم المبحث: 310

المبحث: الإنتاج الحيواني

اليوم والتاريخ: الأربعاء ١/٠٨/٢٠٢٥
رقم الجلوس:

رقم النموذج: (١)

الفرع: الزراعي/خطة ٢٠١٩ فما بعد
اسم الطالب:

اختر رمز الإجابة الصحيحة في كل فقرة مما يأتي، ثم ظلل بشكل غامق الدائرة التي تشير إلى رمز الإجابة في نموذج الإجابة (ورقة القارئ الضوئي) فهو النموذج المعتمد (فقط) لاحتساب علامتك، علماً أنّ عدد الفقرات (٥٠)، وعدد الصفحات (٤).

١- مصدر البويضات في الجهاز التناسلي الأنثوي للأبقار والأغنام، هو:

(أ) الرّحم (ب) قناة البيض (ج) المبيض (د) المهبل

٢- إحدى العبارات الآتية صحيحة في ما يخص عُمر وصول الأبقار والأغنام إلى مرحلة النضج الجنسي:

(أ) إناتها تتأخر قليلاً عن ذكورها في الوصول إلى النضج الجنسي

(ب) يتأخر في حيوانات المناطق الباردة عن حيوانات المناطق الحارة

(ج) تنضج عندما تصل إلى نصف الوزن المثالي للسلالة التابعة لها

(د) إنتاج البويضات يبدأ بعمر أبكر من إنتاج الحيوانات المنوية

٣- من هرمونات الغدة النخامية المؤثرة في عملية تناسل الأبقار والأغنام:

(أ) الإستروجين (ب) البروجسترون (ج) هرمون الإباضة (د) التستوستيرون

٤- تُنزع الإسفنجات المهبلية بعد (١٢ - ١٤) يوماً، وتُطلق الكباش على الأغنام بعد سحبها بـ:

(أ) ٦ ساعات (ب) ١٢ ساعة (ج) ٢٤ ساعة (د) ٤٨ ساعة

٥- عدد الكباش المخصصة لتفقيح قطيع يتكوّن من (١٠٠) نعجة، هو:

(أ) (٣ - ٢) (ب) (٤ - ٥) (ج) (٦ - ٧) (د) (٨ - ٩)

٦- عامل الخصوبة الذي يحدّد بدء عملية تربية الذكور والإناث وانتهاءها:

(أ) العُمر (ب) الوراثة (ج) الوزن (د) الحالة الصحية

٧- يتكوّن ضرع البقرة من نصفين مفصولين بوساطة:

(أ) نسيج شبه حبلي (ب) نسيج ناعم هوائي (ج) أوتار تعليق جانبية (د) رباط وسطي

٨- تجويف في الجزء السفلي من الغدة اللبنية، يتجمع فيه الحليب القادم إليه بواسطة قنوات الحليب، هو:

(أ) مخزن الحلمة (ب) مخزن الغدة (ج) الحويصلة (د) الفصيص

٩- البروجسترون من هرمونات الحليب؛ ووظيفته التجهيز للحمل وتنشيط إفراز الحليب، ومكان إفرازه:

(أ) الجسم الأصفر (ب) الرّحم (ج) الغدة الكظرية (د) الغدة النخامية

١٠- مع ازدياد درجة حرارة البيئة المحيطة بالبقرة الحلوب:

(أ) يزداد استهلاكها من العلف

(ب) يزداد إنتاجها من الحليب

(ج) تزداد نسبة الدسم في حليبها

(د) تزداد سرعة تنفسها

الصفحة الثانية

١١- من أساليب التغذية الذي تعتمد فيه الأغنام جزئياً في تغذيتها على الأعلاف المشتراة لها هو:

- (أ) أسلوب الرعي الصناعي
(ب) أسلوب الرعي الطبيعي
(ج) الأسلوب شبه المُكثَّف
(د) الأسلوب المُكثَّف

١٢- خلطة التسمين هي خلطة تُقدَّم لتغذية:

- (أ) ذكور الأغنام قبل بيعها
(ب) إناث الأغنام بعد موسم التلقيح
(ج) إناث الأغنام المستبعدة قبل بيعها
(د) ذكور الأغنام وإناثها بعد موسم التلقيح
١٣- يتراوح عُمر الفطام في الخراف بالأيام بين:

- (أ) (٢٥ - ٤٠) (ب) (٤٥ - ٦٠) (ج) (٦٥ - ٨٠) (د) (٧٥ - ٩٠)

١٤- من الخصائص الإيجابية لتسمين الحيوان على الأعلاف المُركَّزة:

- (أ) تدني تكلفة التغذية
(ب) رائحة طيبة للحم الناتج
(ج) زيادة معدلات النمو
(د) تدني تكلفة العلاجات
١٥- كل ما يأتي من العوامل المؤثرة في معدل نمو العجول أو الخراف في أثناء فترة التسمين، ما عدا:

- (أ) سعر الحيوان، ونسبة النفوق
(ب) عُمر الحيوان، وحالته الصحية
(ج) سلالة الحيوان، والرعاية الصحية
(د) جنس الحيوان، ونوع العليقة
١٦- التربية الداخلية ورداءة نوعية السائل المنوي للكباش والفحول المستعمل في التلقيح الاصطناعي، من أسباب:
- (أ) العقم (ب) انخفاض معدلات الحمل (ج) موت الأجنة مبكراً (د) الإجهاض

١٧- الوضع الطبيعي لعملية الولادة عند إناث الأبقار:

- (أ) خروج أحد الأطراف الخلفية والمؤخرة أولاً
(ب) خروج الأطراف الخلفية والمؤخرة أولاً
(ج) خروج أحد الأطراف الأمامية والرأس أولاً
(د) خروج الأطراف الأمامية والرأس أولاً
١٨- عند اتِّباع نظام الفطام المبكر في العجول يبدأ تقديم مُركَّزات الأعلاف في الأسبوع:

- (أ) الأول (ب) الثاني (ج) الثالث (د) الرابع

١٩- كل ما يأتي من إجراءات الوقاية من الإصابة بمرض النفاخ في الأبقار، ما عدا:

- (أ) إطعام الحيوانات تيناً قبل خروجها للمرعى
(ب) خلط النباتات البقولية بأخرى نجيلية
(ج) خروج الحيوانات للمرعى في ساعات الصباح الباكر
(د) استخدام مضادات الرغوة في مياه الشرب
٢٠- مرض غذائي يُصيب الأبقار عالية الإدرار في أثناء الولادة أو بعدها مباشرة:

- (أ) حُمى الحليب (ب) الحُمى الفحمية (ج) تسمم الحمل (د) السِّلّ البقري

٢١- تظهر أعراض مرض تسمم الحمل:

- (أ) عند الأبقار والأغنام قبل الولادة
(ب) عند الأبقار والأغنام بعد الولادة
(ج) عند الأبقار بعد الولادة، وعند الأغنام قبل الولادة
(د) عند الأبقار قبل الولادة، وعند الأغنام بعد الولادة

٢٢- من إجراءات وقاية الأبقار والأغنام من مرض تَعَقن الظلف:

- (أ) اختبار الحساسية للتوبر كلين الجلدي
(ب) وضع حوض يحتوي (٥ - ١٠٪) كبريتات النحاس أمام مدخل الحظائر
(ج) تحصين الحيوانات باللقاح المضاد للمرض
(د) تطهير الحظائر من الداخل والخارج بالمبيدات الحشرية

الصفحة الثالثة

- ٢٣- السبب الرئيس للإصابة بمرض التهاب الضرع عند الأغنام والأبقار، هو:
- (أ) بكتيريا المكورات العنقودية الذهبية
(ب) بكتيريا الفيوزيفورمز
(ج) فيروسات نظيرة المخاطية
(د) فيروسات عائلة بيكورونا
- ٢٤- من الأمراض الطفيلية التي تُصيب الأغنام والأبقار:
- (أ) تعفن الظلف، والتهاب الضرع
(ب) الجرب، وحمى القراد
(ج) الحمى القلاعية، وحمى النفاس
(د) الجمرة الخبيثة، والبروسيلة
- ٢٥- تَجَنَّب المراعي الرطبة التي تُعدُّ وسطاً ملائماً لنموّ اليرقات المسببة للمرض وتطورها هو إجراء وقائي من مرض:
- (أ) النفاخ
(ب) الإجهاض المعدي
(ج) الديدان الرئوية
(د) التسمم المعوي
- ٢٦- تُسمّى الغرفة المشتركة التي يفتح فيها الجهاز الهضمي والبولي والتناسلي في الديك:
- (أ) الكلية
(ب) الحالب
(ج) الأنابيب المنوية
(د) فتحة المجمع
- ٢٧- أحد أجزاء قناة البيض في دجاج البيض، وتمكث فيه البيضة أطول مدّة زمنية (٢١) ساعة، هو:
- (أ) البرزخ
(ب) القمع
(ج) الرّحم
(د) المعظم
- ٢٨- من شروط انتخاب بيض التفريخ، أن يكون معدل وزن البيضة بين:
- (أ) (٤٥-٣٥)غم
(ب) (٦٥-٥٥)غم
(ج) (٨٥-٧٥)غم
(د) (٩٠ - ١٠٠)غم
- ٢٩- لنجاح عملية تفريخ بيض الدجاج، يجب أن تكون درجة الحرارة داخل المُفَرِّخة:
- (أ) ٣٥,٥ °س
(ب) ٣٦,٥ °س
(ج) ٣٧,٥ °س
(د) ٣٨,٥ °س
- ٣٠- المصدر الرئيس للعدوى في المُفَرِّخات:
- (أ) مخلفات التفريخ
(ب) العاملين
(ج) الزوّار
(د) سيارات المزارع
- ٣١- تُعبأ الفراخ عند نقلها إلى المزارع التجارية في صناديق خاصة يتسع الواحد منها:
- (أ) ٢٥ فرخاً
(ب) ٥٠ فرخاً
(ج) ٧٥ فرخاً
(د) ١٠٠ فرخ
- ٣٢- عملية توفير التدفئة والماء والعلف للفراخ منذ لحظة وصولها إلى بيت الحضانة في المزرعة، تُسمّى:
- (أ) الحضانة
(ب) التفريخ
(ج) التجنيس
(د) التجفيف
- ٣٣- من متطلّبات الحضانة التي تكون حاجة الفراخ إليها قليلة في الأيام الأولى من عمرها، وتزداد مع تقدّمها في العُمر:
- (أ) التدفئة
(ب) التهوية
(ج) الإضاءة
(د) الفرشة
- ٣٤- متطلّب أساسي في بيت حضانة الفراخ، وظيفته امتصاص الرطوبة الزائدة والعزل الحراري، هو:
- (أ) الإضاءة
(ب) التهوية
(ج) التدفئة
(د) الفرشة
- ٣٥- في أثناء مرحلة الرعاية لدجاج البيض، تُسحب مضادات الكوكسيديا من العلف في عُمر:
- (أ) ١٠ أسابيع
(ب) ١٥ أسبوعاً
(ج) ٢٠ أسبوعاً
(د) ٢٥ أسبوعاً
- ٣٦- المساحة المخصصة من المشارب الطولية للطير الواحد من دجاج البيض في مرحلة الرعاية، هي:
- (أ) (١,٥) سم
(ب) (٢,٥) سم
(ج) (٣,٥) سم
(د) (٤,٥) سم
- ٣٧- من احتياجات سرب دجاج البيض، والتي تزداد الحاجة إليها خلال فصل الصيف:
- (أ) التدفئة
(ب) الإضاءة
(ج) التهوية
(د) التغذية

يتبع الصفحة الرابعة

الصفحة الرابعة

٣٨- تتميز عليقة إنتاج البيض المقدمة لسرب دجاج البيض بزيادة نسبة:

(أ) الكالسيوم (ب) اللايسين (ج) البروتين (د) الفسفور

٣٩- كل ما يأتي من العوامل التي قد تؤدي إلى حدوث القلش الاختياري في الدجاج البلدي، ما عدا:

(أ) الحرارة العالية (ب) العطش (ج) سوء التغذية (د) قلة الإضاءة

٤٠- من آثار القلش في الصفات الإنتاجية للدجاج:

(أ) تَفَقُّد الدجاجة (٢٥-٣٠)٪ من كتلتها

(ب) تزداد صبغة الزانثوفيل في الصَّفار

(ج) يقلّ معدل كتلة البيض في أثناء الفترة الإنتاجية الثانية

(د) يزداد سُكُّ القشرة في نهاية الفترة الإنتاجية الأولى

٤١- مراحل إنتاج سرب دجاج اللحم، هي:

(أ) الرعاية والإنتاج (ب) النمو والتسويق (ج) الحضانة والنمو (د) الحضانة والرعاية

٤٢- من التأثيرات التي يتعرض لها قطيع دجاج إنتاج اللحم نتيجة زيادة نسبة الرطوبة النسبية عن (٧٥٪)، هي زيادة:

(أ) حالات النقر (ب) الأمراض الفيروسية (ج) النمو (د) الأمراض الطفيلية

٤٣- عدد طيور دجاج اللحم في المتر المربع الواحد في العُمر من (٤ أسابيع ولغاية عُمر التسويق):

(أ) (١٠) طيور (ب) (٢٠) طيرًا (ج) (٣٠) طيرًا (د) (٤٠) طيرًا

٤٤- من أعراض نقص فيتامين أ (A) في عليقة الدواجن:

(أ) ظهور نقاط دموية في البيض (ب) انخفاض خصوبة البيض ونسبة الفقس

(ج) لين المخالب والمنقار (د) نُفوق الطير عند حدوث أي جرح

٤٥- من طرق وقاية الطيور من نقص فيتامين د (D):

(أ) زيادة نسبة البروتين في العليقة (ب) تعريض الطيور لأشعة الشمس

(ج) إضافة مضادات التأكسد إلى العليقة (د) تجنّب تخزين العلف لفترة طويلة

٤٦- من أعراض نقص الصوديوم في عليقة الدواجن:

(أ) رخاوة العظام ولينها (ب) بُقَع نزفية تحت الجلد

(ج) انتفاش الريش وجفافه (د) تضخّم مفصل العرقوب

٤٧- كل ما يأتي من أسباب حدوث ظاهرة النقر في الدجاج، ما عدا:

(أ) وجود أفراد غريبة اللون في السرب (ب) وجود الجروح في الطيور

(ج) انخفاض درجة الحرارة (د) قلة المعالف والمشارب

٤٨- بكتيريا سالمونيلا بللورم هي المُسبّب لمرض:

(أ) النيوكاسل (ب) الإسهال الأبيض (ج) الماريكس (د) الجمبورو

٤٩- مرض فيروسي يمتاز بأعراض تنفسية وحشرجة الصوت وضيق التنفس ودوران الطير حول نفسه ومن ثمّ الشلل:

(أ) الجمبورو (ب) الماريكس (ج) النيوكاسل (د) انفلونزا الطيور

٥٠- من أعراض إصابة الطيور بمرض الكوكسيديا:

(أ) إسهال شديد ذو رائحة كريهة (ب) وجود بُقَع حمراء على الجلد

(ج) ازرقاق العرف والداليتين والجلد (د) التهاب ملتحمة العين

﴿ انتهت الأسئلة ﴾



امتحان شهادة الدراسة الثانوية العامة لعام ٢٠٢٤ التكميلي

(وثيقة محمية/محمود)

د س

مدة الامتحان: ٤٥ : ٠

رقم المبحث: 311

المبحث: الإنتاج الحيواني / ف ١

اليوم والتاريخ: الأربعاء ٠٨/٠١/٢٠٢٥
رقم الجلوس:

رقم النموذج: (١)

الفرع: الزراعي / خطة ٢٠١٨
اسم الطالب:

اختر رمز الإجابة الصحيحة في كل فقرة مما يأتي، ثم ظلّل بشكل غامق الدائرة التي تشير إلى رمز الإجابة في نموذج الإجابة (ورقة القارئ الضوئي) فهو النموذج المعتمد (فقط) لاحتساب علامتك، علماً أنّ عدد الفقرات (٢٥)، وعدد الصفحات (٣).

١- مصدر البويضات في الجهاز التناسلي الأنثوي للأبقار والأغنام، هو:

(أ) الرّحم (ب) قناة البيض (ج) المبيض (د) المهبل

٢- إحدى العبارات الآتية صحيحة في ما يخص عُمر وصول الأبقار والأغنام إلى مرحلة النضج الجنسي:

(أ) إناثها تتأخر قليلاً عن ذكورها في الوصول إلى النضج الجنسي
(ب) يتأخر في حيوانات المناطق الباردة عن حيوانات المناطق الحارة
(ج) تتضج عندما تصل إلى نصف الوزن المثالي للسلالة التابعة لها
(د) إنتاج البويضات يبدأ بعمر أبكر من إنتاج الحيوانات المنوية

٣- من هرمونات الغدة النخامية المؤثرة في عملية تناسل الأبقار والأغنام:

(أ) الإستروجين (ب) البروجسترون (ج) هرمون الإباضة (د) التستوستيرون

٤- تُتْرَع الإسفنجات المهبلية بعد (١٢ - ١٤) يوماً، وتُطَلَق الكباش على الأغنام بعد سحبها بـ:

(أ) ٦ ساعات (ب) ١٢ ساعة (ج) ٢٤ ساعة (د) ٤٨ ساعة

٥- عدد الكباش المخصصة لتلقيح قطيع يتكوّن من (١٠٠) نعجة، هو:

(أ) (٣ - ٢) (ب) (٤ - ٥) (ج) (٦ - ٧) (د) (٨ - ٩)

٦- عامل الخصوبة الذي يحدّد بدء عملية تربية الذكور والإناث وانتهاءها:

(أ) العُمر (ب) الوراثة (ج) الوزن (د) الحالة الصحية

٧- يتكون ضرع البقرة من نصفين مفصولين بوساطة:

(أ) نسيج شبه حبلي (ب) نسيج ناعم هوائي (ج) أوتار تعليق جانبية (د) رباط وسطي

٨- تجويف في الجزء السفلي من الغدة اللبنية، يتجمع فيه الحليب القادم إليه بواسطة قنوات الحليب، هو:

(أ) مخزن الحلمة (ب) مخزن الغدة (ج) الحويصلة (د) الفصيصة

٩- البروجسترون من هرمونات الحليب؛ ووظيفته التجهيز للحمل وتنشيط إفراز الحليب، ومكان إفرازه:

(أ) الجسم الأصفر (ب) الرّحم (ج) الغدة الكظرية (د) الغدة النخامية

الصفحة الثانية

١٠- مع ازدياد درجة حرارة البيئة المحيطة بالبقرة الحلوب:

- (أ) يزداد استهلاكها من العلف
(ب) يزداد إنتاجها من الحليب
(ج) تزداد نسبة الدسم في حليبها
(د) تزداد سرعة تنفسها

١١- من أساليب التغذية الذي تعتمد فيه الأغنام جزئيًا في تغذيتها على الأعلاف المشتراة لها هو:

- (أ) أسلوب الرعي الصناعي
(ب) أسلوب الرعي الطبيعي
(ج) الأسلوب شبه المُكثَّف
(د) الأسلوب المُكثَّف

١٢- خلطة التسمين هي خلطة تُقدَّم لتغذية:

- (أ) ذكور الأغنام قبل بيعها
(ب) إناث الأغنام بعد موسم التلقيح
(ج) إناث الأغنام المستبعدة قبل بيعها
(د) ذكور الأغنام وإناثها بعد موسم التلقيح

١٣- يتراوح عُمر الفطام في الخراف بالأيام بين:

- (أ) (٢٥ - ٤٠) (ب) (٤٥ - ٦٠) (ج) (٦٥ - ٨٠) (د) (٧٥ - ٩٠)

١٤- من الخصائص الإيجابية لتسمين الحيوان على الأعلاف المُركَّزة:

- (أ) تدني تكلفة التغذية
(ب) رائحة طيبة للحم الناتج
(ج) زيادة معدلات النمو
(د) تدني تكلفة العلاجات

١٥- كل ما يأتي من العوامل المؤثرة في معدل نمو العجول أو الخراف في أثناء فترة التسمين، ما عدا:

- (أ) سعر الحيوان، ونسبة النفوق
(ب) عُمر الحيوان، وحالته الصحية
(ج) سلالة الحيوان، والرعاية الصحية
(د) جنس الحيوان، ونوع العليقة

١٦- التربية الداخلية ورداءة نوعية السائل المنوي للكباش والفحول المستعمل في التلقيح الاصطناعي، من أسباب:

- (أ) العقم (ب) انخفاض معدلات الحمل (ج) موت الأجنة مبكرًا (د) الإجهاض

١٧- الوضع الطبيعي لعملية الولادة عند إناث الأبقار:

- (أ) خروج أحد الأطراف الخلفية والمؤخرة أولاً
(ب) خروج الأطراف الخلفية والمؤخرة أولاً
(ج) خروج أحد الأطراف الأمامية والرأس أولاً
(د) خروج الأطراف الأمامية والرأس أولاً

١٨- عند اتِّباع نظام الفطام المبكر في العجول يبدأ تقديم مُركَّزات الأعلاف في الأسبوع:

- (أ) الأول (ب) الثاني (ج) الثالث (د) الرابع

١٩- كل ما يأتي من إجراءات الوقاية من الإصابة بمرض النفاخ في الأبقار، ما عدا:

- (أ) إطعام الحيوانات تينًا قبل خروجها للمرعى
(ب) خلط النباتات البقولية بأخرى نجيلية
(ج) خروج الحيوانات للمرعى في ساعات الصباح الباكر
(د) استخدام مضادات الرغوة في مياه الشرب

الصفحة الثالثة

٢٠- مرض غذائي يُصيب الأبقار عالية الإدرار في أثناء الولادة أو بعدها مباشرة:

(أ) حُمى الحليب (ب) الحُمى الفحمية (ج) تَسَمُّ الحمل (د) السَلَّ البقري

٢١- تظهر أعراض مرض تَسَمُّ الحمل:

(أ) عند الأبقار والأغنام قبل الولادة
Type your text

(ب) عند الأبقار والأغنام بعد الولادة

(ج) عند الأبقار بعد الولادة، وعند الأغنام قبل الولادة (د) عند الأبقار قبل الولادة، وعند الأغنام بعد الولادة

٢٢- من إجراءات وقاية الأبقار والأغنام من مرض تعفن الظلف:

(أ) اختبار الحساسية التوبر كلين الجلدي

(ب) وضع حوض يحتوي (٥- ١٠٪) كبريتات النحاس أمام مدخل الحظائر

(ج) تحصين الحيوانات باللقاح المضاد للمرض

(د) تطهير الحظائر من الداخل والخارج بالمبيدات الحشرية

٢٣- السبب الرئيس للإصابة بمرض التهاب الضرع عند الأغنام والأبقار، هو:

(أ) بكتيريا المكورات العنقودية الذهبية (ب) بكتيريا الفيوزيفورمز

(ج) فيروسات نظيرة المخاطية (د) فيروسات عائلة بيكورونا

٢٤- من الأمراض الطفيلية التي تُصيب الأغنام والأبقار:

(أ) تعفن الظلف، والتهاب الضرع (ب) الجرب، وحَمَى القراد

(ج) الحَمَى القلاعِيَّة، وحَمَى النفاس (د) الجمرة الخبيثة، والبروسِيلا

٢٥- تَجَنَّب المراعي الرطبة التي تُعدُّ وسطاً ملائماً لنمو البيرقات المسببة للمرض وتطوِّرها هو إجراء وقائي من مرض:

(أ) النفاخ (ب) الإجهاض المعدي (ج) الديدان الرئوية (د) التسمم المعوي

﴿ انتهت الأسئلة ﴾



امتحان شهادة الدراسة الثانوية العامة لعام ٢٠٢٤ التكميلي

(وثيقة محمية/محمود)

س د

مدة الامتحان: ٤٥ : ٠

رقم المبحث: 312

المبحث: الإنتاج الحيواني/ ف٢

اليوم والتاريخ: الأربعاء ١/٠٨/٢٠٢٥

رقم النموذج: (١)

الفرع: الزراعي/ خطة ٢٠١٨

رقم الجلوس:

اسم الطالب:

اختر رمز الإجابة الصحيحة في كل فقرة مما يأتي، ثم ظلّل بشكل غامق الدائرة التي تشير إلى رمز الإجابة في نموذج الإجابة (ورقة القارئ الضوئي) فهو النموذج المعتمد (فقط) لاحتساب علامتك، علماً أنّ عدد الفقرات (٢٥)، وعدد الصفحات (٣).

١- تُسمّى الغرفة المشتركة التي يفتح فيها الجهاز الهضمي والبولي والتناسلي في الديك:

(أ) الكلية (ب) الحالب (ج) الأنابيب المنوية (د) فتحة المجمع

٢- أحد أجزاء قناة البيض في دجاج البيض، وتمكث فيه البيضة أطول مدّة زمنية (٢١) ساعة، هو:

(أ) البرزخ (ب) القمع (ج) الرّحم (د) المعظم

٣- من شروط انتخاب بيض التفريخ، أن يكون معدل وزن البيضة بين:

(أ) (٣٥-٤٥)غم (ب) (٥٥-٦٥)غم (ج) (٧٥-٨٥)غم (د) (٩٠-١٠٠)غم

٤- لنجاح عملية تفريخ بيض الدجاج، يجب أن تكون درجة الحرارة داخل المُفَرِّخة:

(أ) ٣٥,٥°س (ب) ٣٦,٥°س (ج) ٣٧,٥°س (د) ٣٨,٥°س

٥- المصدر الرئيس للعدوى في المُفَرِّخات:

(أ) مخلفات التفريخ (ب) العاملين (ج) الزوّار (د) سيارات المزارع

٦- تُعبأ الفراخ عند نقلها إلى المزارع التجارية في صناديق خاصة يتسع الواحد منها:

(أ) ٢٥ فرخاً (ب) ٥٠ فرخاً (ج) ٧٥ فرخاً (د) ١٠٠ فرخ

٧- عملية توفير التدفئة والماء والعلف للفراخ منذ لحظة وصولها إلى بيت الحضانة في المزرعة، تُسمّى:

(أ) الحضانة (ب) التفريخ (ج) التجنيس (د) التجفيف

٨- من متطلّبات الحضانة التي تكون حاجة الفراخ إليها قليلة في الأيام الأولى من عمرها، وتزداد مع تقدّمها في العُمُر:

(أ) التدفئة (ب) التهوية (ج) الإضاءة (د) الفرشة

٩- متطلّب أساسي في بيت حضانة الفراخ، وظيفته امتصاص الرطوبة الزائدة والعزل الحراري، هو:

(أ) الإضاءة (ب) التهوية (ج) التدفئة (د) الفرشة

الصفحة الثانية

١٠- في أثناء مرحلة الرعاية لدجاج البيض، تُسحب مضادات الكوكسيديا من العلف في عُمر:

(أ) ١٠ أسابيع (ب) ١٥ أسبوعًا (ج) ٢٠ أسبوعًا (د) ٢٥ أسبوعًا

١١- المساحة المخصصة من المشارب الطولية للطير الواحد من دجاج البيض في مرحلة الرعاية، هي:

(أ) (١,٥) سم (ب) (٢,٥) سم (ج) (٣,٥) سم (د) (٤,٥) سم

١٢- من احتياجات سرب دجاج البيض، والتي تزداد الحاجة إليها خلال فصل الصيف:

(أ) التدفئة (ب) الإضاءة (ج) التهوية (د) التغذية

١٣- تتميز عليقة إنتاج البيض المقدمة لسرب دجاج البيض بزيادة نسبة:

(أ) الكالسيوم (ب) اللايسين (ج) البروتين (د) الفسفور

١٤- كل ما يأتي من العوامل التي قد تؤدي إلى حدوث القلش الاختياري في الدجاج البلدي، ما عدا:

(أ) الحرارة العالية (ب) العطش (ج) سوء التغذية (د) قلة الإضاءة

١٥- من آثار القلش في الصفات الإنتاجية للدجاج:

(أ) تَفَقِد الدجاجة (٢٥-٣٠)٪ من كتلتها

(ب) تزداد صبغة الزانثوفيل في الصفار

(ج) يقل معدل كتلة البيض في أثناء الفترة الإنتاجية الثانية

(د) يزداد سُمك القشرة في نهاية الفترة الإنتاجية الأولى

١٦- مراحل إنتاج سرب دجاج اللحم، هي:

(أ) الرعاية والإنتاج (ب) النمو والتسويق (ج) الحضانة والنمو (د) الحضانة والرعاية

١٧- من التأثيرات التي يتعرض لها قطيع دجاج إنتاج اللحم نتيجة زيادة نسبة الرطوبة النسبية عن (٧٥٪)، هي زيادة:

(أ) حالات التقر (ب) الأمراض الفيروسية (ج) النمو (د) الأمراض الطفيلية

١٨- عدد طيور دجاج اللحم في المتر المربع الواحد في العُمر من (٤ أسابيع ولغاية عُمر التسويق):

(أ) (١٠) طيور (ب) (٢٠) طيرًا (ج) (٣٠) طيرًا (د) (٤٠) طيرًا

١٩- من أعراض نقص فيتامين أ (A) في عليقة الدواجن:

(أ) ظهور نقاط دموية في البيض (ب) انخفاض خصوبة البيض ونسبة الفقس

(ج) لين المخالب والمنقار (د) نُفوق الطير عند حدوث أي جرح

الصفحة الثالثة

٢٠- من طرق وقاية الطيور من نقص فيتامين د (D):

- (أ) زيادة نسبة البروتين في العليقة
(ب) تعريض الطيور لأشعة الشمس
(ج) إضافة مضادات التأكسد إلى العليقة
(د) تجنب تخزين العلف لفترة طويلة

٢١- من أعراض نقص الصوديوم في عليقة الدواجن:

- (أ) رخاوة العظام ولينها
(ب) بقع نزفية تحت الجلد
(ج) انتفاش الريش وجفافه
(د) تضخم مفصل العرقوب

٢٢- كل ما يأتي من أسباب حدوث ظاهرة النقر في الدجاج، ما عدا:

- (أ) وجود أفراد غريبة اللون في السرب
(ب) وجود الجروح في الطيور
(ج) انخفاض درجة الحرارة
(د) قلة المعالف والمشارب

٢٣- بكتيريا سالمونيلا بللورم هي المُسبب لمرض:

- (أ) النيوكاسل
(ب) الإسهال الأبيض
(ج) الماريكس
(د) الجمبورو

٢٤- مرض فيروسي يمتاز بأعراض تنفسية وحشرجة الصوت وضيق التنفس ودوران الطير حول نفسه ومن ثم الشلل:

- (أ) الجمبورو
(ب) الماريكس
(ج) النيوكاسل
(د) انفلونزا الطيور

٢٥- من أعراض إصابة الطيور بمرض الكوكسيديا:

- (أ) إسهال شديد ذو رائحة كريهة
(ب) وجود بقع حمراء على الجلد
(ج) ازرقاق العرف والداليتين والجلد
(د) التهاب ملتحمة العين

﴿ انتهت الأسئلة ﴾

امتحان شهادة الدراسة الثانوية العامة لعام ٢٠٢٤ التكميلي

(وثيقة محمية/محدود)

س د
١ ٣٠

رقم المبحث: 328

المبحث: الإدارة والسلامة المهنية

اليوم والتاريخ: الأربعاء ٢٠٢٥/١/٨
رقم الجلوس:

رقم النموذج: (١)

الفرع: الاقتصاد المنزلي
اسم الطالب:

اختر رمز الإجابة الصحيحة في كل فقرة مما يأتي، ثم ظلل بشكل غامق الدائرة التي تشير إلى رمز الإجابة في نموذج الإجابة (ورقة القارئ الضوئي) فهو النموذج المعتمد (فقط) لاحتساب علامتك، علماً أنّ عدد الفقرات (٥٠)، وعدد الصفحات (٤).
١- اختلفت كلّ من الدول والمؤسسات الداعمة للمشروعات في نظرتها إلى المشروع الصغير، واجتهدت كلّ منها في وضع تعريف له خاصّ بها، مُعتمدة على عوامل مُختلفة، ومنها:

أ) الشكل القانوني (ب) كميّة الاستهلاك (ج) المجموعة المُستهدفة (د) نشاط المشروع
٢- المفهوم الذي يُشير إلى "المُدّة الزمنية المُمتدّة بين بدء استخدام الموارد أو عناصر الإنتاج في العمليّة الإنتاجيّة وظهور السلعة أو الخدمة"، هو:

أ) دورة المبيعات (ب) عُمر المشروع (ج) جدوى المشروع (د) دورة الإنتاج
٣- تُعدّ الدراسة التسويقيّة البداية المناسبة لدراسة جدوى المشروع، حيث إنها تكشف مدى الحاجة إلى:

أ) المُنتج (ب) العُمال (ج) رأس المال (د) المادة الخام
٤- الاسم التجاري هو اسم بسيط وسهل الحفظ، يُميّز السلعة عن غيرها من السلع، يُختار عن طريق:
أ) ضريبة الدخل (ب) وزارة الصناعة والتجارة
ج) المُنتج (د) مؤسسة المواصفات والمقاييس

٥- المواد الخام (الأوليّة) في المشروعات الخدميّة مثل صالونات التجميل تكون:

أ) غير مُصنّعة (ب) تامّة الصنع (ج) غير مُحدّدة الصلاحية (د) سريعة الفساد
٦- المفهوم الذي يُشير إلى "الأموال والمواد والأدوات اللازمة لإنشاء نشاط اقتصادي (مشروع)"، هو:

أ) العائدات (ب) القروض (ج) التدفّقات النقديّة (د) رأس المال
٧- الإجراء الصحيح الذي يتعيّن على صاحب المشروع القيام به إذا أراد أن يكون مشروعه ظاهرًا ومعروفًا تحت أحد الأشكال القانونيّة المُتاحة، هو:

أ) ترخيصه وتسجيله (ب) إعداد حَملة إعلانية (ج) إعداد خطة تسويقية (د) إجراء دراسة جدوى
٨- أهم ما يُميِّز شركة التوصية البسيطة أحد الأشكال القانونيّة للمشروعات الصغيرة:

أ) يملكها شخص واحد (ب) تضمّ نوعين من الشركاء
ج) الحرية في اتخاذ القرار (د) سهولة إجراءات تسجيلها

٩- المشروعات الصغيرة التي تستهدف إنتاج السلع، يُقسّم مكان العمل فيها إلى قسمين، هما:

أ) التخزين والإدارة (ب) الإنتاج والتخزين (ج) الإنتاج والإدارة (د) الاستقبال والإنتاج

يتبع الصفحة الثانية

الصفحة الثانية

١٠- العمّال الذين يُديرون الأجهزة والمعدات في المشروع يُصنّفون إلى عمّال:

(أ) دائمين (ب) مؤقتين (ج) وافدين (د) مُياومة

١١- المفهوم الذي يُشير إلى "مزيج من الجودة والسعر والكمية للسّعة التي يختارها المُستهلك عند الشراء"، هو:

(أ) التسويق (ب) الجودة (ج) نَمَط الإنتاج (د) نَمَط الاستهلاك

١٢- من المُقوّمات الخاصة بالمشروع، وتكون سبباً في نجاحه أو فشله:

(أ) المرونة (ب) اليقظة والانتباه (ج) حُسن اختيار الموقع (د) القدرة على اتخاذ القرار

١٣- في دورة حياة المشروع، يأتي التقييم:

(أ) في بداية عمَل المشروع (ب) بعد عملية التنفيذ، وقبل مرحلة التشغيل

(ج) بعد دراسة الجدوى، وقبل عملية التنفيذ (د) في نهاية عمَل المشروع

١٤- إنتاج أكبر عدد من الوحدات وفقاً للمواصفات المطلوبة، وتقليل عدد الوحدات المعيبة، وعدد الشكاوى الواردة بشأن

الوحدات المُنتجة، هو مفهوم الجودة بالنسبة إلى:

(أ) صاحب المشروع (ب) مُفتش الجودة (ج) مهندس الإنتاج (د) مُصمّم المشروع

١٥- المفهوم الذي يُشير إلى "جميع الإجراءات التخطيطية والتنظيمية اللازمة لإكساب المُنتج الثقة الكافية بقدرته على

تلبية حاجات المُستهلك ورغباته"، هو:

(أ) التسويق (ب) الترويج (ج) شهادة المطابقة (د) توكيد الجودة

١٦- رفع الكفاءة الإنتاجية وذلك بتخفيض كلفة الإنتاج، هو أحد فوائد:

(أ) البيع بالجملة (ب) ضبط الجودة (ج) علامة الأيزو (د) البيع الآلي

١٧- في مراحل تطبيق ضبط الجودة، تُعدّ عملية إنتاج المراكيب المدرسية في أحد مصانع إنتاج الملابس الجاهزة ضمن:

(أ) ضبط جودة عمليات الإنتاج (ب) ضبط جودة المواد الأولية

(ج) فحص المنتجات واختبارها (د) عملية التشطيب النهائية

١٨- تُمنح شهادة علامة الجودة الأردنية لمُنتج ما مدّة:

(أ) سنة (ب) سنتين (ج) ثلاث سنوات (د) أربع سنوات

١٩- حُصّصت "جائزة الملك عبدالله الثاني للعمل الحرّ والريادة" بموجب الإرادة الملكية السامية التي صدرت عام:

(أ) ٢٠٠٢ (ب) ٢٠٠٤ (ج) ٢٠٠٦ (د) ٢٠٠٨

٢٠- مؤسسة الإقراض الزراعي هي إحدى المؤسسات الداعمة للمشروعات الصغيرة، وتُصنّف ضمن:

(أ) المؤسسات الحكومية (ب) المؤسسات الأهلية (ج) الهيئات الأجنبية (د) الهيئات الثقافية

٢١- من الأسباب التي أدت إلى تطوّر مفهوم التسويق مع تقدّم الزمن:

(أ) نَمَط الاستهلاك (ب) ثبات القوانين والأنظمة (ج) محدودية المواد الأولية (د) زيادة الإنتاج

٢٢- تبرز فائدة التسويق وأهميته بالنسبة للمشروع، في أنه:

(أ) يُعنى بتحقيق أهداف المشروع (ب) يُساعد على زيادة الفاقد والمُرتجع

(ج) يوصل المعلومات إلى المنافسين (د) يحدّ من تأثير قنوات التوزيع

يتبع الصفحة الثالثة

الصفحة الثالثة

٢٣- المواصفات المتعلقة بشكل السلعة وسهولة استخدامها، وطريقة تغليفها، وما يميزها من صفات، والسعر الذي تُباع فيه، كلها أمور مهمة يترتب عليها نجاح عملية:

(أ) الاتصال (ب) التسويق (ج) الاستهلاك (د) التصميم

٢٤- استخدام الموارد المتاحة للمجتمع وعدم هدرها بتقديم سلع ضارة بالمجتمع صحياً، ولا تتفق مع أخلاقياته وقيمه من أجل الأرباح، تُعد من أهداف التسويق:

(أ) الاقتصادية (ب) البيئية (ج) الاجتماعية (د) الثقافية

٢٥- من أهداف التسويق تحقيق التقدم والنمو للمشروع، ويعني ذلك:

(أ) تقليل الإيرادات والأرباح (ب) تحقيق زيادة مُضطردة في المبيعات

(ج) الوصول إلى نقطة التعادل (د) المبالغة في البيع بالأجل

٢٦- أولى مهمات النشاط التسويقي، هي:

(أ) معرفة حاجات المستهلك (ب) الاتصال الأولي بالوسطاء

(ج) إعلام المستهلك بوجود السلعة (د) إقناع المستهلك بأهمية السلعة

٢٧- المنتج الفعلي هو أحد الأبعاد الثلاثة للمنتج، والمثال المناسب عليه، هو:

(أ) التركيب والصيانة (ب) شهادة المطابقة (ج) الضمان والكفالة (د) آلة التصوير

٢٨- أداة التعريف بالمنتج أو العلامة، وتحتوي وصفاً للمنتج ومصدره وتاريخ إنتاجه ومكوناته وطريقة استعماله، هي:

(أ) شهادة المطابقة (ب) البطاقة التعريفية (ج) علامة الأيزو (د) العلامة التجارية

٢٩- المفهوم الذي يُشير إلى "الطريق الذي تسلكه السلعة من المنتج إلى المستهلك النهائي عبر مجموعة من الأجهزة التسويقية المتخصصة، التي تكون تابعة للمنتج أو مُستقلة عنه"، هو:

(أ) تسعير السلعة (ب) القناة الترويجية (ج) القناة التوزيعية (د) ترويج السلعة

٣٠- طريقة التوزيع التي تمنح المستهلك الحق في إرجاع السلع التي طلبها:

(أ) البيع الشخصي (ب) التوزيع بالبريد (ج) البيع الآلي (د) وكالات الإعلان

٣١- تُصنّف اللافتات ضمن وسائل الإعلان:

(أ) الخارجية (ب) الداخلية (ج) الإلكترونية (د) المدمجة

٣٢- أساس نجاح المشروع الصغير ونجاح عناصر المزيج التسويقي كلها، هو:

(أ) التنظيم الفاعل (ب) الاتصال الفاعل (ج) التقييم والتوجيه (د) التخطيط والتنفيذ

٣٣- المعلومات التي تتضمن عروضاً مميزة لصاحبة صالون مكتوبة على لافتة تحوي عناصر تشويق كفيلة بإثارة اهتمام المتلقي، تُمثل أحد عناصر الاتصال الآتية:

(أ) الرسالة (ب) البيئة الخارجية (ج) المرسل (د) وسيلة الاتصال

٣٤- سُميت التغذية الراجعة بهذا الاسم لأنها ترتد من:

(أ) المرسل إلى المستقبل (ب) المرسل إلى الرسالة

(ج) المستقبل إلى المرسل (د) الرسالة إلى وسيلة الاتصال

الصفحة الرابعة

٣٥- تتضمّن عمليّة استقطاب زبون جديد عدّة مراحل، منها:

(أ) تحديد خصائص المنافسين

(ب) تحديد مواسم البيع

(ج) قياس نسبة الانتشار في السوق

(د) الاتصال الأولي بالمستهلك

٣٦- من الصفات التي يجب أن يتمتّع بها صاحب المشروع لكسب ثقة الزبون، هي:

(أ) الاستعجال وعدم التروّي

(ب) المُماظلة في عملية البيع لإقناعه

(ج) مُجادلة الزبون لإزالة مخاوفه

(د) الصبر والهدوء وثمّالك النَّفس

٣٧- إرسال صاحبة مَخِيطة للزيائن دعوة بواسطة الهاتف المحمول، تُبيّن فيها أنّ مجموعة الملابس الشتويّة قد اكتمل

إعدادها، مُحدّدة الزمان والمكان المُخصّصين لعرض هذه الملابس، يُقصد به:

(أ) بناء قاعدة بيانات الزبائن

(ب) التوسّع في العلاقة مع المنافسين

(ج) استقطاب مُستهلكين جُدد

(د) المُحافظة على الزبائن الحاليين

٣٨- من الطرائق المُستخدمة لاختزال الأعمال الورقيّة وخفّض ميزانيّة التسويق، هي:

(أ) توزيع النشرات والبوسترات

(ب) تفعيل العلاقات العامّة

(ج) تفعيل كُتبيات الدعاية الإلكترونيّة

(د) التعاون مع وكالات الإعلان

٣٩- طريقة التسويق الإلكتروني التي تُعدّ إحدى أهم الوسائل التي تستخدمها المؤسسة لتسويق نفسها ومنتجاتها، هي:

(أ) الصّحف والمُصقّات

(ب) المجلات المُصوّرة

(ج) التوزيع بالبريد المُباشر

(د) بناء موقع على شبكة الإنترنت

٤٠- (Yahoo) و (Google) مثالان على:

(أ) بريد إلكتروني (ب) رسالة إلكترونيّة (ج) مُحرّكات بحث (د) موقع إلكتروني

• ضع إشارة (✓) أمام العبارة الصحيحة، وإشارة (X) أمام العبارة الخطأ، ثمّ ظلّل بشكل غامق الدائرة التي تُشير إلى

رمز الإجابة في نموذج الإجابة (الدائرة ذات الرمز (أ) للتعبير عن الصواب والدائرة ذات الرمز (ب) للتعبير عن الخطأ):

٤١- () من الضروري معرفة تكلفة إنتاج الوحدة الواحدة من المُنتج لتقدير السعر المُناسب، والحيلولة دون خسارة المشروع.

٤٢- () تُمثّل نقطة التعادل الحدّ الذي يجب أن يتخطاه المشروع ليحقّق أرباحًا ومكاسب.

٤٣- () يُصبح المشروع جاهزًا للعمل من الناحية القانونيّة بعد الحصول على شهادة تسجيل الشركة.

٤٤- () احتفاظ المشروع بكميّة أكبر ممّا يجب من المواد والسّلع يُؤدّي إلى شحّ في السيولة النقديّة المُتوافرة لدى

صاحب المشروع.

٤٥- () تتوّع فئات شهادات الأيزو جَعَلها مُلائمة لمُختلف القطاعات والخدمات.

٤٦- () من الأمثلة على الخدمات الإضافيّة الداعمة للمُنتج للبيع بالأجل.

٤٧- () يُعدّ نظام ضَبط الجودة أحد عناصر المزيج الترويجي.

٤٨- () تتشابه وسائل الاتصال في قدراتها على التوصيل وعلى إثارة انتباه المُتلقي.

٤٩- () تكلفة المُحافظة على مُستهلك من عملاء المشروع هي أقلّ من تكلفة استقطاب عميل جديد.

٥٠- () من مزايا التسويق الإلكتروني زيادة القدرة على جَمع معلومات تفصيليّة عن العملاء.

﴿ انتهت الأسئلة ﴾